

Řešte s námi!

Kolo 679

20. 4. 2026 až 26. 4. 2026

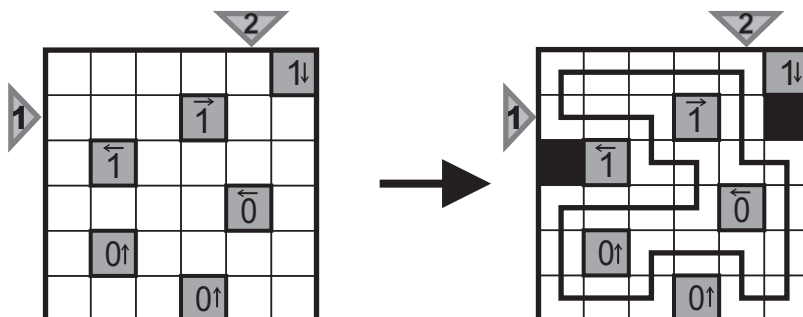
1. Yajilin

Autor: Ondřej Motlíček

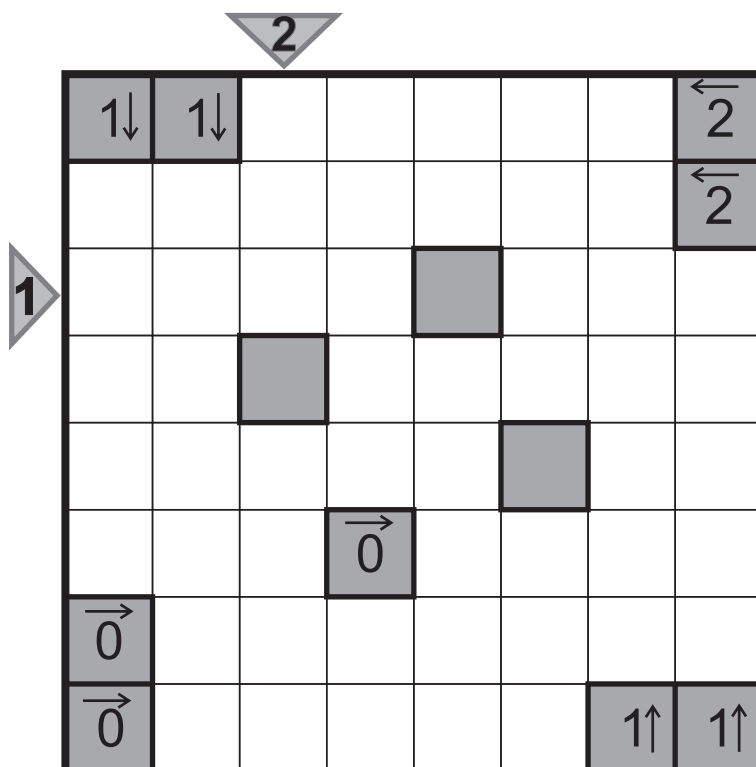
Úloha z kolekce „Co se nevešlo na MČRL 2025“

Začerní některá z prázdných polí. Pak nakresli smyčku, tedy jednu uzavřenou linii, která se nekříží ani nedtýká sama sebe, a prochází středy všech zbylých prázdných polí ve vodorovném či svislém směru. Černá pole se nemohou navzájem dotýkat stranou. Šedá pole nemohou být součástí smyčky. Pokud tato pole obsahují šipku s číslem, pak toto číslo značí počet černých polí, která se nacházejí v obrazi ve směru šipky.

Příklad:



Řešení 1: LILSIC
Řešení 2: LILSLL



Řešte s námi!

Kolo 679

20. 4. 2026 až 26. 4. 2026

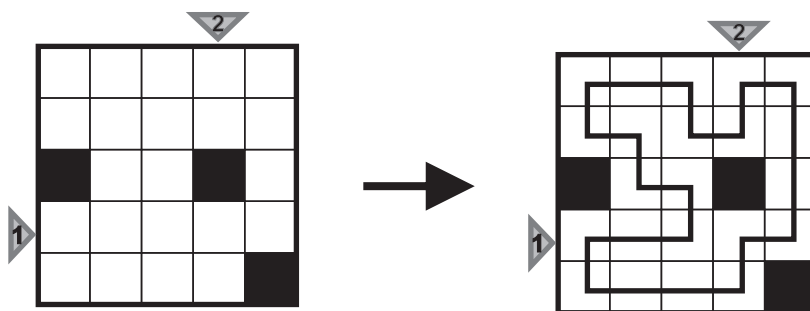
2. Smyčka

Autor: Ondřej Motlíček

Úloha z kolekce „Co se nevešlo na MČRL 2025“.

Nakresli jednu uzavřenou linii, která se nekříží ani nedotýká sama sebe, a prochází středy všech prázdných polí ve vodorovném či svislém směru.

Příklad:



Řešení 1: LLLLL
Řešení 2: LLCLL

