

Kolo 136  
16. až 22. 11. 2015

## 1) Součiny

Vyplňte tabulku čísly 1 až 7 tak, aby se neopakovala v žádném řádku, sloupci, ani v tučně ohraničených oblastech. Jednociferné nebo dvouciferné číslo v kroužku / oválu je součinem čísel podél příslušné šipky.





	4					
○	○				○	
		1				
			3			
				7		
	2					
5			○			6

Dlouhodobá soutěž v řešení  
 sudoku a logických úloh

Kolo 136  
 16. až 22. 11. 2015

## 2) Součiny

Vyplňte tabulku čísly 1 až 9 tak, aby se neopakovala v žádném řádku, sloupci, ani v tučně ohraničených čtvercích. Dvouciferné číslo v oválu je součinem čísel podél příslušné šipky.

9	1		<input type="text"/>					
5			2				<input type="text"/>	
			<input type="text"/>	7				
	4		8				7	
		6				9	<input type="text"/>	
					9			3
			1				6	
						8		7