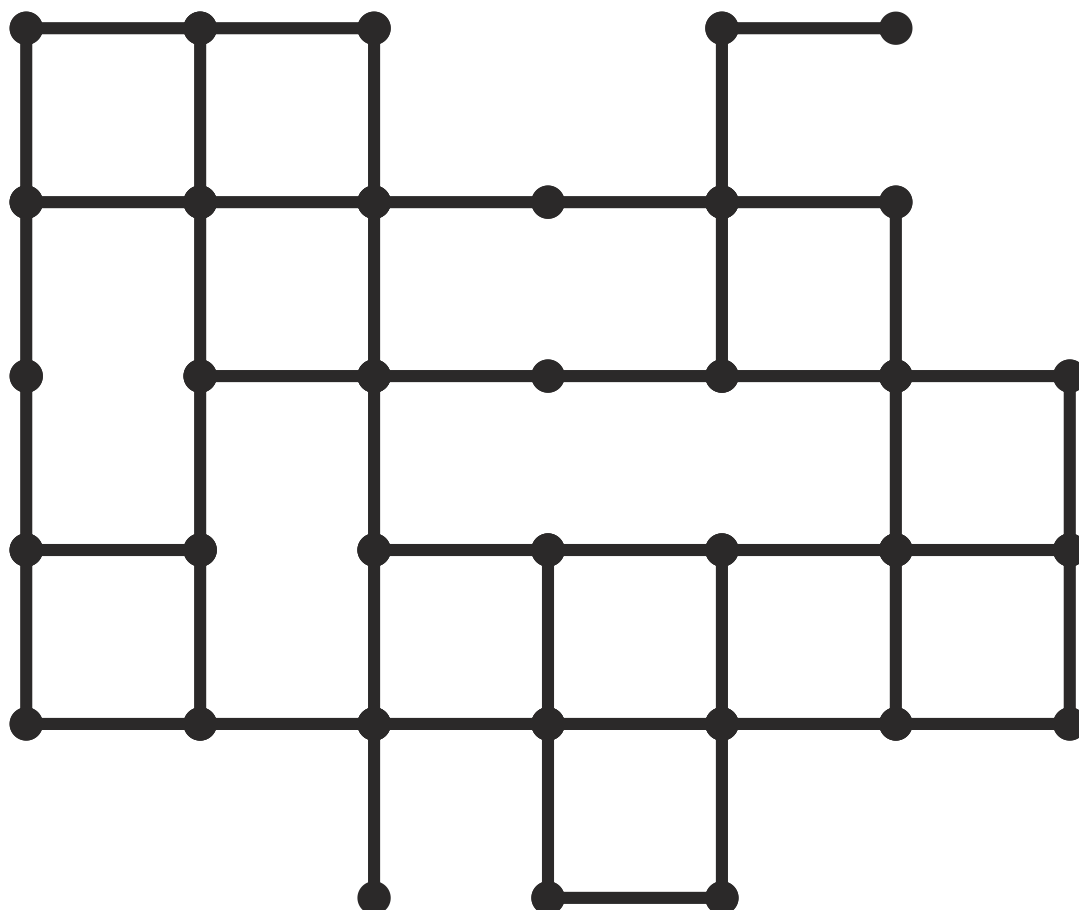
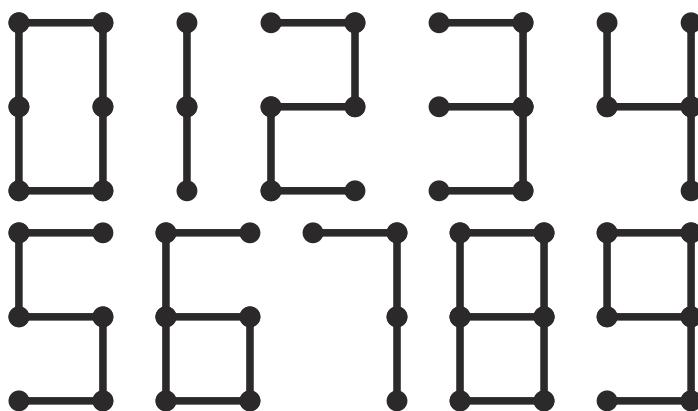


Kolo 93

19. až 25. 1. 2015

## 1) Digitální propletenec

Deset uvedených digitálních číslic je pootočeno a stlačeno do jednoho propletenec tak, že se nikde nepřekrývají ani nekříží, pouze dotýkají v bodech. Určete, kde která číslice leží.



Kolo 93

19. až 25. 1. 2015

## 2) Digitální číslice

Deset uvedených digitálních číslic vložte do obrazce tak, aby se vzájemně nedotýkaly ani rohem. Čísla u řádků / sloupců udávají délky všech vybarvených úseků v nich, ve správném pořadí. Otáčení tvarů je povoleno, zrcadlení ne. Políčko s křížkem musí zůstat prázdné.

**0 1 2 3 4 5**

**6 7**

1

3

3

1

3

5

1

1

5

3

1

1

1

1


1

1

1

1

**8 9**



1 1 1 1 1

3 1 1 5

1 1 1

1 1 1 1 1 1

1 1 1