






















Kolo 63
23. až 29. 6. 2014

Dlouhodobá soutěž v řešení
sudoku a logických úloh

1) Vnitřní mrakodrapy

Vyplňte tabulku čísly 1 až 7 tak, aby každý řádek i sloupec obsahoval všechna čísla 1 až 7. Čísla představují výšky mrakodrapů. Pokud zároveň číslo odpovídá počtu mrakodrapů viditelných z daného místa v n kterém směru, v políčku je to vyznačeno šipkou. (Tedy například šipka dolů v políčku znamená, že z toho místa dolů jsou z mrakodrapů v daném směru i vidět.) Všechny možné šipky jsou vyznačeny.

Kolo 63
23. až 29. 6. 2014

Dlouhodobá soutěž v řešení
sudoku a logických úloh

2) Trojité mrakodrapy

Vyplňte tabulku čísly 1 až 7 tak, aby každý řádek i sloupec obsahoval všechna čísla 1 až 7. Čísla představují výšky mrakodrapů. Čísla okolo tabulky udávají počet viditelných mrakodrapů z daného směru. Vevnitř jsou barevně vyznačeny další dvě podtabulky. Pokud některé z čísel sousedících s nimi zvenjšku odpovídá počtu viditelných mrakodrapů v podtabulce, políčko je podbarveno.

