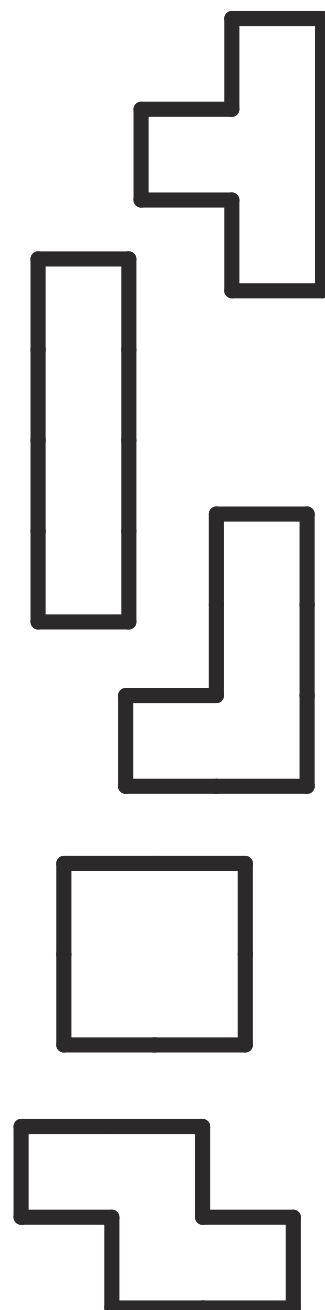



Dlouhodobá soutěž v řešení
sudoku a logických úloh

Kolo 159
25. 4. až 1. 5. 2016

1) Two segment tetromino

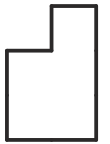
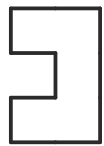
Umístěte do obrazce 5 různých tetromin tak, aby se nedotýkaly ani rohem. Přesně dvě úsečky z hranice každého tetromina jsou zadané.



Kolo 159

25. 4. až 1. 5. 2016

2) Four segment pentomino



Umístěte do obrazce 12 různých pentomin tak, aby se nedotýkaly ani rohem. Přesně čtyři úsečky z hranice každého pentomina jsou zadané.

